

適性検査Ⅱ

注 意

- 1 問題は **1** だけで、3 ページにわたって印刷してあります。**資料** が中に 1 枚あります。
- 2 検査時間は45分で、終わりは午前11時20分です。
- 3 声を出して読むではいけません。
- 4 解答はすべて解答用紙に明確に記入し、**解答用紙だけを提出**しなさい。
- 5 解答を直すときは、きれいに消してから、新しい解答を書きなさい。
- 6 **受検番号**を解答用紙の決められたらんに記入しなさい。

東京都立小石川中等教育学校

1 ひろしさんは今年の夏休みの自由研究で日本の貿易について調べようと思いました。

図書館で、貿易について調べていると、資料1（2003年 おもな国の貿易額）と資料2（2003年 国際観光収入と国際観光支出）が見つかりました。

ひろし : お父さん、国際観光収入と国際観光支出ってどういうものをいうの。

お父さん : たとえば、外国の人が日本に来て、ホテルや旅館に泊まってお金を払えば、日本でお金を使うから日本にとっては収入になるよね。それが日本の国際観光収入だよ。逆に、日本の人が外国へ行って、ホテルなどに泊まってお金を払えば、外国にとっては収入になり、日本にとっては支出にもなるよね。日本から見れば、それが国際観光支出というんだよ。

ひろし : そうか。そうすると外国の人が日本に来ておみやげを買えば、日本の国際観光収入になり、逆に日本の人が外国に行っておみやげを買えば、日本の国際観光支出になるわけだね。

お父さん : そうだよ。外国の人が旅行で日本に来てお金を使うことは、日本の収入になるから、国際観光収入は輸出の一部で、逆に国際観光支出は、輸入の一部と考えられるんだ。

ひろしさんは、資料1と資料2を使って日本とほかの国を比較して
みることにしました。

[問題1] アメリカ合衆国、ドイツ、マレーシアの中から1つの国を選び、
次の(1)、(2)、(3)の問いに答えなさい。なお、解答らんには選んだ
国の名前も書きなさい。

- (1) 資料1から、輸出額と輸入額のちがいに注目し、あなたが選んだ国と
日本を比較して、その特徴を書きなさい。
- (2) 資料2から、国際観光収入と国際観光支出のちがいに注目し、あなたが
選んだ国と日本を比較して、その特徴を書きなさい。
- (3) 資料1と資料2から、輸出額と輸入額のちがい、および国際観光収入と
国際観光支出のちがいに注目し、あなたが選んだ国と日本を比較して、
その特徴を書きなさい。

ひろしさんは、次に図書館で資料3（2003年 おもな国の人口）を見つけ、
資料2と資料3を使って、さらに日本とほかの国を比較してみることに
しました。

[問題2] アメリカ合衆国、ドイツ、マレーシアの中から1つの国を選び、人口
1人あたりの国際観光収入と国際観光支出について日本と比較すると、
どのようなことがわかりますか。約何倍、約何分の何という言い方を
用いて説明しなさい。なお、解答らんには選んだ国の名前も書きなさい。

ひろしさんは、さらに日本を訪れた外国の人がどのような印象をもったのかを調べることにしました。すると、約5,000人の外国人旅行者にインタビューした調査結果の資料4（日本を訪れる前・日本を訪れた後の日本に対する良い印象）が見つかりました。ひろしさんはこの資料を見て、外国の人が日本を訪れる前に日本に対してもっていた印象が、訪れた後にはどうか変わったのかについて、お父さんと話し始めました。

ひろし：お父さん、見てよ。おおぜいの人にインタビューした結果だけれど、良い印象の順位が訪れる前と訪れた後で、かわっているものがあるよ。

お父さん：どれどれ、見せてごらん。

ひろし：「日本の人々が親切・礼儀正しい」は同じ1位だけれど、2位、3位だった「都市の景観が美しい」と「文化と歴史がすばらしい」の順位が、ほかと入れかわっているね。もっと順位が高くてもいいと思うけれど。どうしてかなあ。

お父さん：残念だね。日本の都市の美しさや文化と歴史のすばらしさについては、もっと外国の人によく理解してもらいたいね。

ひろし：ぼくもそう思うよ。日本を訪れた人に、日本の良さをもっとわかってもらえるようにするには、どうしたらいいのかなあ。

○ことばの説明

景観——見る価値の高い特色ある景色。

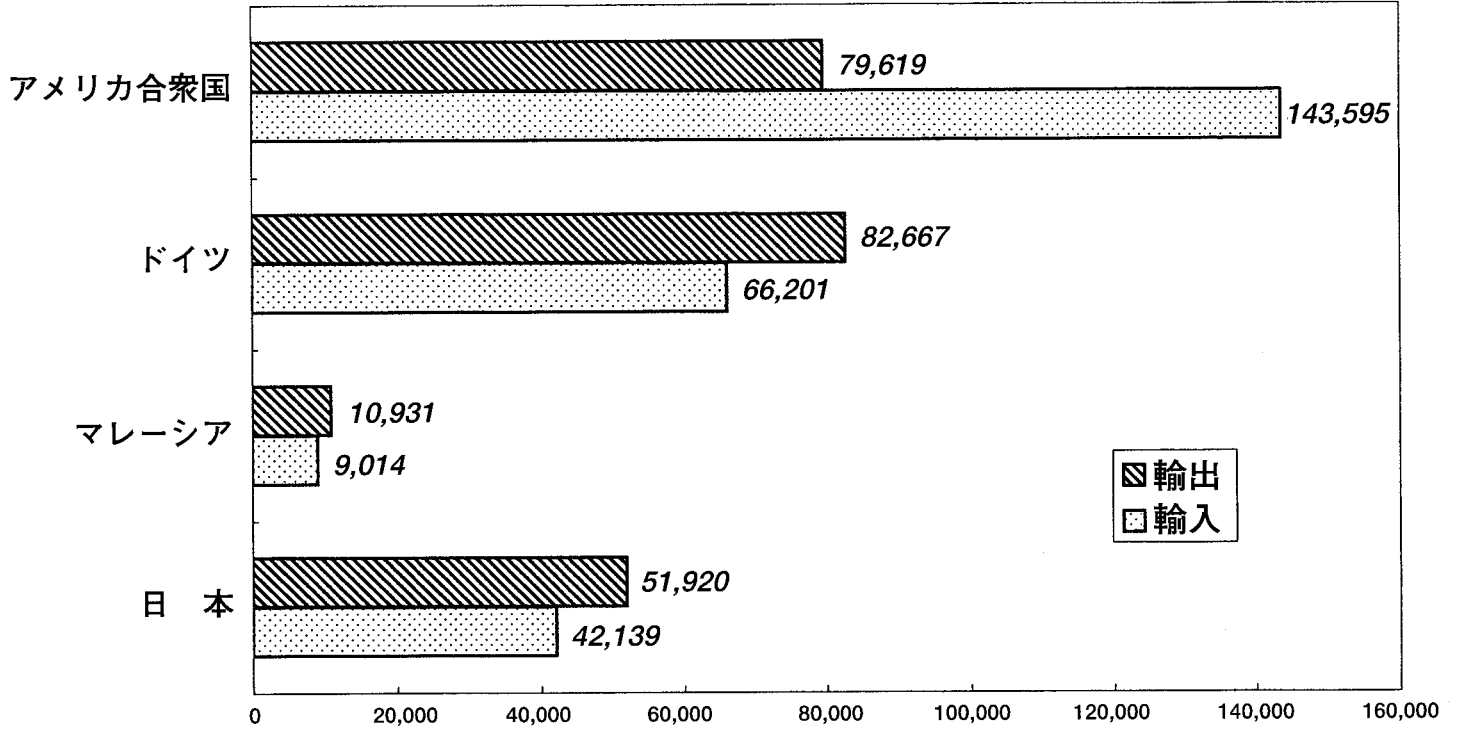
[問題3] 「都市の景観が美しい」と「文化と歴史がすばらしい」の2つについて、より多くの外国人旅行者に、日本の良さをもっとわかってもらうためにはどうすればいいか、具体的に提案しなさい。

解答らんには、それぞれ100字以上120字以内で、段落をかえずに書きなさい。「、」や「。」もそれぞれ字数に数えます。

資料

資料1 2003年 おもな国の貿易額

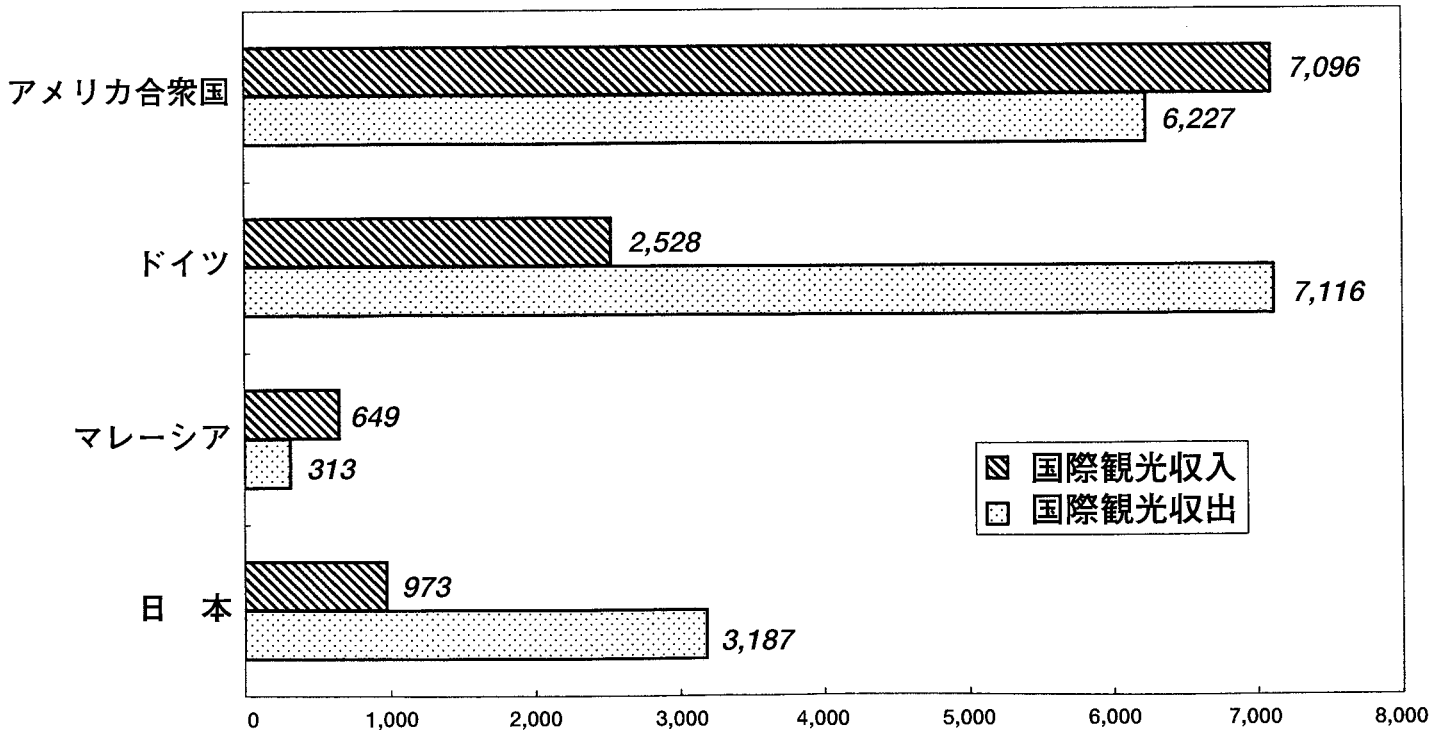
(単位; 10億円)



(「せかいこくせいずえ世界国勢図絵 2005/2006年版」より作成)

資料2 2003年 国際観光収入と国際観光支出

(単位; 10億円)



(「JNTO国際観光白書 2004/2005年版」より作成)

資料3 2003年 おもな国の人口

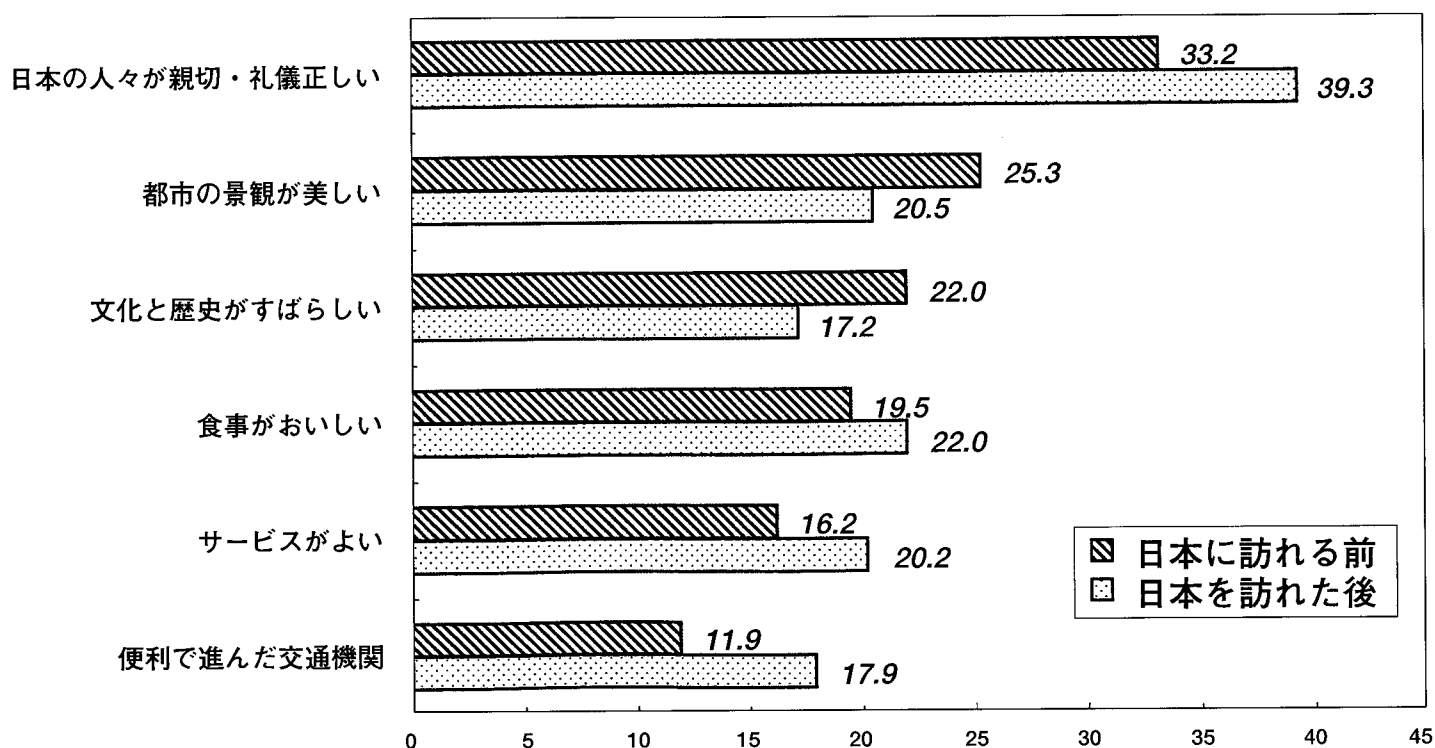
(単位; 100万人)

国名	人口
アメリカ合衆国	294
ドイツ	83
マレーシア	24
日本	128

(「2004年版 世界の国一覧表^{いちらんひょう}」より作成)

資料4 日本を訪れる前・日本を訪れた後の日本に対する良い印象

(単位; %)



※ 複数回答のため、合計が100%をこえます。

(「2005年 訪日外国人旅行者満足度調査報告書^{ほうにち}」より作成)

解答用紙 適性検査 II

1 [問題 1]

選んだ国	
(1)	
(2)	
(3)	

[問題 2]

選んだ国	

